

Les polygones

Devoirs pour

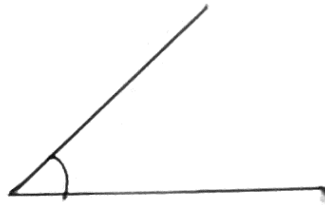
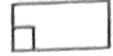
Un même nombre de coches sur des côtés indique des côtés congrus.




Un même nombre de flèches sur deux côtés indique des côtés parallèles.



Un petit carré dans un coin indique un angle droit (de 90°).



Un angle aigu



Un angle obtus

6. Qui suis-je? Dessine ou identifie les figures qui suivent.

a) J'ai 2 paires de côtés parallèles.
J'ai 2 paires d'angles égaux.
La moitié de mes angles sont obtus.

e) J'ai 2 côtés parallèles.
J'ai 2 angles droits, 2 angles aigus
et 1 angle obtus.

b) J'ai 3 paires de côtés parallèles.
Tous mes côtés sont égaux.

f) Je n'ai pas d'axe de symétrie.
Je n'ai pas de côtés égaux.

c) Tous mes angles sont obtus.
J'ai 8 axes de symétrie.

g) Je n'ai pas de côtés parallèles.
Tous mes angles sont obtus.

d) Tous mes angles sont droits.
J'ai 2 axes de symétrie.

h) Je n'ai pas de côtés parallèles.
Tous mes angles sont aigus.

